

LIBRIS

We know
books

101 JOCURI LOGICE

CARTE DE ACTIVITĂȚI




Conceput de: **Anuj Chawla**

Traducere de: **Iuliana Voicu**

Adaptare jocuri și activități: **Dan-Sorin Manea**



BUCUREȘTI, 2021



Scrive în
casetă
alăturată
formula
de salut
folosită cel
mai des.

Cum este
posibil să
împarți
un tort
rotund în
opt părți
egale,
doar
din trei
tăieturi?



În câte locuri s-a găurit tricoul?
 Scrie numărul în caseta alăturată.



Află
 valoarea
 fiecărui
 fruct
 și rezolvă
 exercițiile.

$$\text{apple} = 7$$

$$\text{plum} = 5 + \text{apple}$$

$$\text{apple} = 1 + \text{pear} + \text{pear} + \text{pear}$$

$$\text{apple} + \text{plum} + \text{pear} =$$

Alege calea bună
spre aeroport.

LIBRIS We know books



Găsește cele șapte numere care se ascund în propozițiile de mai jos. Subliniază-le.


Un melc codobelc, două rațe crăcănate,
trei iezi cucuieți și patru cai
s-au înhămat la tramvai.

Cinci arici pogonici, șase viermi
de mătase și șapte purici
pe picior și-au construit dormitor
chiar la mine în pridvor.


Găsește cuvântul care s-a încurcat și care denumește o planetă a Sistemului Solar.

T M P Ă N Î

În ce parte a autobuzului se află animalele? În stânga sau în dreapta? Scrie răspunsul în caseta de mai jos.



--	--	--	--	--	--	--	--



--